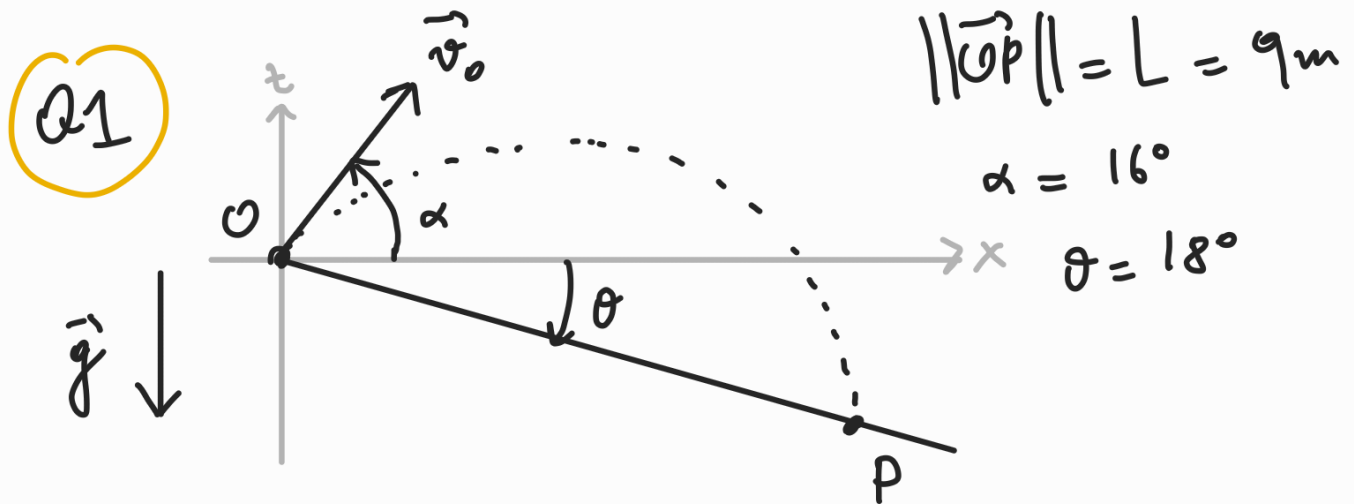


Janvier 2022



1.)  $\vec{OP} = L (\cos \theta, -\sin \theta)$

A.N. :  $\vec{OP} = (8,56\text{m}, 2,78\text{m})$

2.)  $\vec{v}_0 = v_0 (\cos \alpha, \sin \alpha)$

$(\cos \alpha, \sin \alpha) = (0,276, 0,961)$

3.) Formule générale :

$$\vec{r}(t) = \vec{r}_0 + \vec{v}_0 t + \frac{1}{2} \vec{g} t^2$$

$\vec{r}_0 = \vec{0}$  par choix de O.

$\vec{g} = (0, -g)$

Donc

$$\vec{r}(t) = \left( v_0 t \cos \alpha, v_0 t \sin \alpha - \frac{1}{2} g t^2 \right)$$

4).  $\vec{r}(t_*) = \vec{OP}$  par définition de  $t_*$ .

Donc

$$\begin{cases} v_0 t_* \cos \alpha = L \cos \theta \\ v_0 t_* \sin \alpha - \frac{1}{2} g t_*^2 = -L \sin \theta \end{cases}$$

5).  $t_* = \frac{L \cos \theta}{v_0 \cos \alpha}$

$$\Rightarrow \cancel{v_0} \left( \frac{L \cos \theta}{\cancel{v_0} \cos \alpha} \right) \sin \alpha - \frac{1}{2} g \left( \frac{L \cos \theta}{\cancel{v_0} \cos \alpha} \right)^2 = -L \sin \theta$$

$$\cancel{L} \cos \theta \tan \alpha - \frac{1}{2} g \frac{\cancel{L}^2}{v_0^2} \frac{\cos^2 \theta}{\cos^2 \alpha} = -\cancel{L} \sin \theta$$

$$\cos \theta \tan \alpha + \sin \theta = \frac{1}{2} g \frac{\cos^2 \theta}{\cos^2 \alpha} \frac{L}{v_0^2}$$

$$v_0^2 = \frac{1}{2} g \frac{\cos^2 \theta}{\cos^2 \alpha} \frac{L}{\cos \theta \tan \alpha + \sin \theta}$$

$$v_0^2 = \frac{1}{2} g \frac{\cos \theta}{\cos^2 \alpha} \frac{L}{\tan \alpha + \tan \theta}$$

$$\Rightarrow \begin{cases} v_0 = \sqrt{\frac{1}{2} g \frac{\cos \theta}{\cos \alpha} \frac{L}{\tan \alpha + \tan \theta}} \\ t_* = \frac{L}{v_0} \frac{\cos \theta}{\cos \alpha} \end{cases}$$

A.N. :  $\begin{cases} v_0 = 8,70 \text{ m/s} \\ t_* = 1,02 \text{ s} \end{cases}$

6). Si  $\alpha < -\theta$ , alors

$$\tan \alpha = -|\tan \alpha| \quad (\text{car } \alpha < 0)$$

et en plus :  $|\tan \alpha| > |\tan \theta| = \tan \theta$ ,

donc

$$\tan \alpha + \tan \theta < 0.$$

Or on aurait alors  $v_0^2 < 0$ , ce qui est impossible !

Q2

$$M = 420\,000 \text{ kg}$$

$$m = 12 \text{ kg}$$

$$v_i = 420 \text{ km/h.}$$

$$1). \quad v_i = 420\,000 \text{ m} / (60 \times 60 \text{ s}) = 116,7 \text{ m/s.}$$

$$2). \quad v_{cm} = \frac{1}{M+m} (M v_s + m v_i)$$

$v_{station}$

Or la station est immobile par rapport à  $\mathcal{O}$  (avant l'impact!), donc

$$v_{station} = 0.$$

$$\Rightarrow v_{cm} = \frac{1}{1 + M/m} v_i$$

$$A.N.: \quad \frac{M}{m} = \frac{420 \cdot 10^3}{12} = 3,5 \cdot 10^4$$

$$\Rightarrow \frac{1}{1 + M/m} = 2,87 \cdot 10^{-5}$$

$$\Rightarrow v_{cm} = 3,35 \cdot 10^{-3} \text{ m/s}$$

$$\left( v_{cm} = 0,335 \text{ cm/s} \right)$$

$$3). \quad p_a = m v_i = 1400 \text{ kg m/s}.$$

$$4). \quad p_s = M v_s = 0 \text{ m/s}.$$

$$5). \quad E_c = \frac{1}{2} m v_i^2 + \underbrace{\frac{1}{2} M v_s^2}_{=0}$$

$$\Rightarrow E_c = 8,17 \cdot 10^4 \text{ J}$$

6). Conservation de l'impulsion :

$$p'_s = \underbrace{p_s}_{=0} + p_a$$

$$\Rightarrow (M+m) v'_s = m v_i \Rightarrow v'_s = \frac{1}{1+M/m} v_i = v_{cm}.$$

$$\Rightarrow v'_s = 3,35 \cdot 10^{-2} \text{ m/s}.$$

$$7). E_c' = \frac{1}{2} (M+m) v_s'^2$$

$$\text{A.N.: } E_c' = 235 \text{ J}$$

8). On a

$$E_c = 8,17 \cdot 10^4 \text{ J}$$

et

$$E_c' = 235 \text{ J}$$

$\Rightarrow E_c' \neq E_c$  : la collision

n'est pas élastique.

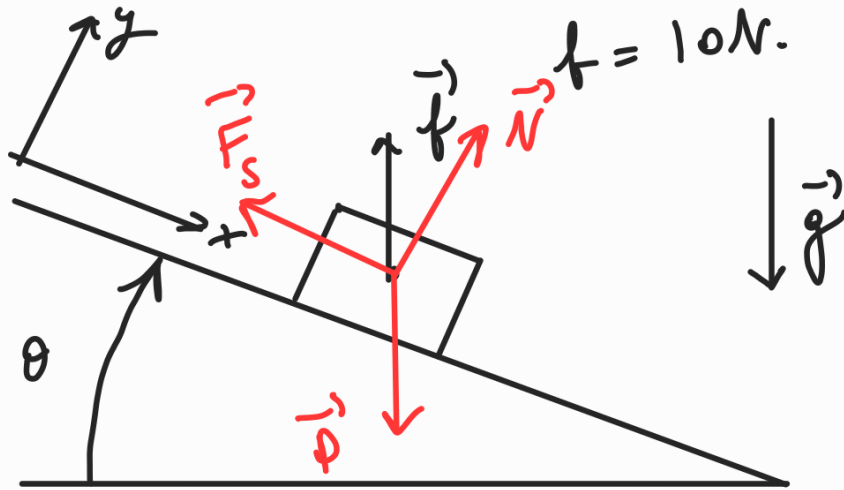
$$E_{\text{diss.}} = E_c - E_c' = 8,15 \cdot 10^4 \text{ J}.$$

Q3

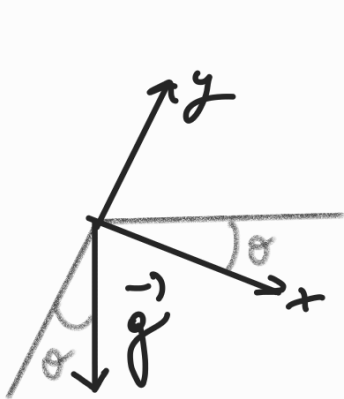
$$M = 21 \text{ kg}$$

$$\theta = 19^\circ$$

$$\mu = 0.6$$



1).



$$\vec{g} = g (\sin \theta, -\cos \theta)$$

$$\text{A.N.: } \vec{g} = (3,26 \text{ m/s}^2, 9,46 \text{ m/s}^2)$$

2).  $\vec{f} \parallel \vec{g}$  mais de sens opposé, donc :

$$\vec{f} = f (-\sin \theta, \cos \theta)$$

$$f = 10 \text{ N, donc}$$

$$\vec{f} = (-3,26 \text{ N}, 9,46 \text{ N}).$$

3). Poids:  $\vec{P} = M\vec{g}$

Force normale du sol:  $\vec{N}$

Force de frottement statiques:  $\vec{F}_s$

4). Bloc immobile  $\Rightarrow \sum \vec{F} = \vec{0}$ .

On a :

$$\left\{ \begin{array}{l} \vec{P} = Mg = Mg (\sin \theta, -\cos \theta) \\ \vec{N} = (0, N) \\ \vec{F}_s = -(F_s, 0) \\ \vec{f} = f (-\sin \theta, \cos \theta) \end{array} \right.$$

Donc :  $\vec{P} + \vec{N} + \vec{F}_s + \vec{f} = \vec{0}$  donne :

$$\left\{ \begin{array}{l} Mg \sin \theta - F_s - f \sin \theta = 0 \\ -Mg \cos \theta + N + f \cos \theta = 0 \end{array} \right.$$

$$\Rightarrow \left\{ \begin{array}{l} F_s = (Mg - f) \sin \theta \\ N = (Mg - f) \cos \theta \end{array} \right.$$

A.N. :  $\left\{ \begin{array}{l} F_s = 65,11 \text{ N} \\ N = 189,10 \text{ N} \end{array} \right.$



Remarque : on a

$$\mu N = 113,46 \text{ N}$$

ce qui est supérieur à  $F_S$ , ce qui est cohérent.

$$5). \begin{cases} \text{Force réciproque à } \vec{N} = -\vec{N} = (0, -189,10 \text{ N}) \\ \text{Force réciproque à } \vec{F}_S = -\vec{F}_S = (65,11 \text{ N}, 0) \end{cases}$$

$$6). \begin{cases} \text{Se met à glisser} \Leftrightarrow F_S = \mu N & (1) \\ \text{Se soulève} \Leftrightarrow N = 0. & (2). \end{cases}$$

$$(1) \Leftrightarrow (Mg - f) \sin \theta = \mu (Mg - f) \cos \theta$$

Donc  $f$  disparaît de cette équation !

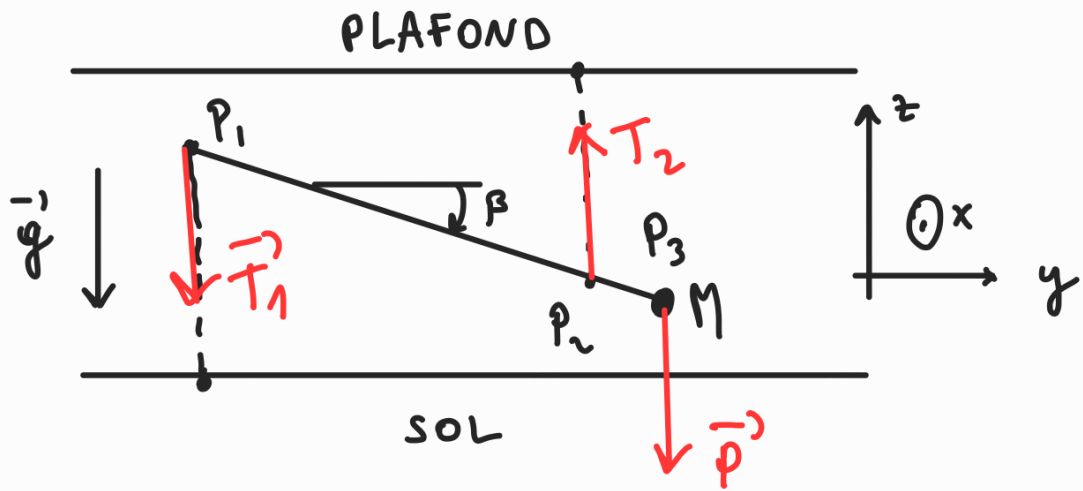
Conclusion : même en augmentant  $f$ , le bloc ne se met jamais à glisser.

$$(2) \Leftrightarrow (Mg - f) \cos \theta = 0$$

$$\Leftrightarrow f = Mg = P = 210 \text{ N}.$$

(Assez intuitif ...).

Q4



$$\|\vec{P}_1 \vec{P}_2\| = L = 17 \text{ cm}$$

$$M = 4,2 \text{ kg}$$

$$\|\vec{P}_1 \vec{P}_3\| = l = 29 \text{ cm}$$

1).  $\vec{g} = (0, 0, -g) = (0, 0, -10 \text{ m/s}^2)$

2). Poids de M :  $\vec{P} = M\vec{g}$

Force exercé par la 1<sup>ère</sup> corde :  $\vec{T}_1$   
 2<sup>ème</sup> — :  $\vec{T}_2$

3).  $\sum \vec{F} = \vec{0}$ , avec

$$\vec{T}_1 = (0, 0, -T_1)$$

$$\vec{T}_2 = (0, 0, T_2)$$

$$M\vec{g} = (0, 0, -Mg)$$

$$\Rightarrow -T_1 + T_2 - Mg = 0 \Rightarrow T_1 = T_2 - Mg$$

$$4). \vec{c}_{P_1}(\vec{T}_1) = \vec{0}$$

$$\vec{c}_{P_1}(\vec{T}_2) = \vec{P}_1 \vec{P}_2 \times \vec{T}_2 \quad \odot$$

$$= (c_{P_1}(\vec{T}_2), 0, 0)$$

$$c_{P_1}(\vec{T}_2) = \|\vec{P}_1 \vec{P}_2\| T_2 \cos \beta$$

$$= L T_2 \cos \beta$$

$$\vec{c}_{P_1}(\vec{Mg}) = \vec{P}_1 \vec{P}_3 \times (M\vec{g}) \quad \otimes$$

$$= (-c_{P_1}(Mg), 0, 0)$$

$$c_{P_1}(Mg) = l Mg \cos \beta$$

5). Système immobile  $\Rightarrow \sum \vec{c}_{P_i} = 0$ .

Donc

$$L T_2 \cos \beta - l Mg \cos \beta = 0$$

$$\Rightarrow L T_2 = l Mg \Rightarrow T_2 = \frac{l Mg}{L}$$

$$T_1 = T_2 - Mg = \left(\frac{l}{L} - 1\right) Mg.$$

$$\text{A.N.: } \begin{cases} T_2 = 71,65 \text{ N} \\ T_1 = 29,65 \text{ N} \end{cases}$$

6). Il doit avoir un vecteur  $\vec{0}$ .

7). On a toujours  $T_2 > T_1$ , donc la première à se casser est toujours la corde 2. Cela survient si

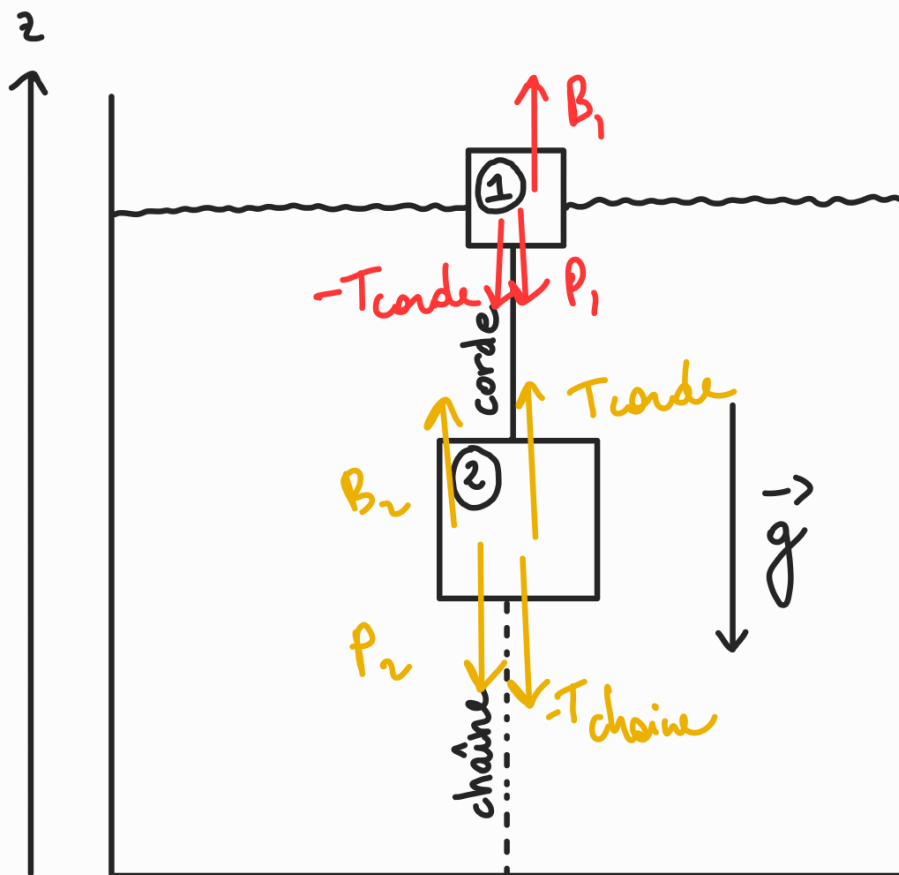
$$T_2 = T_c. \quad (T_c = 100 \text{ N})$$

Donc

$$\frac{Mg}{L} = T_c \quad (\Rightarrow) \quad M = \frac{LT_c}{g}$$

$$\text{A.N.: } M = 5,06 \text{ kg.}$$

Q5



$$V_1 = 300 \text{ cm}^3 = 3 \cdot 10^{-4} \text{ m}^3$$

$$\rho_1 = 900 \text{ kg/m}^3$$

$$V_2 = 400 \text{ cm}^3 = 4 \cdot 10^{-4} \text{ m}^3$$

$$\rho_2 = 700 \text{ kg/m}^3$$

$$V_i = 15\% V_1$$

$$1). \quad M_1 = \rho_1 V_1 = 2,7 \cdot 10^{-2} \text{ kg}$$

$$M_2 = \rho_2 V_2 = 2,8 \cdot 10^{-1} \text{ kg} = 0,28 \text{ kg}$$

$$2). \quad \left\{ \begin{array}{l} \text{Poids} \quad P_1 = -M_1 g \\ \text{Poussée d'Archimède} \quad B_1 = \rho_0 g V_i > 0 \\ \text{Force de la corde} = -T_{\text{corde}} \end{array} \right.$$

3). Equilibre du bloc 1 :

$$P_1 + B_1 - T_{\text{corde}} = 0 .$$

$$\begin{aligned} \Rightarrow T_{\text{corde}} &= P_1 + B_1 = \rho_0 g V_i - M_1 g \\ &= g (\rho_0 V_i - M_1) \end{aligned}$$

$$\begin{aligned} \text{A.N. : } T_{\text{corde}} &= 10 (1000 \cdot 0,15 \cdot 3 \cdot 10^{-4} - 2,7 \cdot 10^{-2}) \text{ N} \\ &= 0,18 \text{ N} \end{aligned}$$

4). (Voir dessin ; liste assez évidente!).

$$5). B_2 + T_{\text{corde}} - T_{\text{chaîne}} - M_2 g = 0$$

$$\Rightarrow T_{\text{chaîne}} = B_2 + T_{\text{corde}} - M_2 g .$$

$$= \rho_0 g V_2 + g (\rho_0 V_i - M_1) - M_2 g$$

$$= g (\rho_0 (V_2 + V_i) - (M_1 + M_2))$$

$$V_2 - V_i = (4 \cdot 10^{-4} + 0,15 \cdot 3 \cdot 10^{-4}) \text{ m}^3$$

$$= 4,45 \cdot 10^{-4} \text{ m}^3$$

$$\rho_0(V_2 - V_i) = 0,445 \text{ kg}$$

$$m_1 + m_2 = 0,307 \text{ kg}$$

$$\Rightarrow T_{\text{chain}} = 1,38 \text{ N}.$$

6). A-t-on seulement brisure d'un des deux liens ?

Regardons le cas extrême, où  $V_i = V_1$ .

On a alors :

$$T_{\text{corde}} = g(\rho_0 V_1 - m_1)$$

$$= 10(1000 \cdot 3 \cdot 10^{-4} - 2,7 \cdot 10^{-2}) \text{ N}$$

$$= 2,73 \text{ N}$$

$$T_{\text{chain}} = g(\rho_0 V_2 - m_2) + T_{\text{corde}}$$

$$= 10 \cdot (1000 \cdot 4 \cdot 10^{-4} - 0,28) \text{ N} + 2,73 \text{ N}$$

$$= 3,93 \text{ N}.$$

Donc même dans ce cas, on est encore  
loin des valeurs de rupture : on peut  
tranquillement immerger le bloc 1,  
rien ne se lâche.



Q6  $\rho = 950 \text{ kg/m}^3$   $v = 0,2 \text{ cm/s}$ .

1).  $Q = A v$   $A = \pi R^2$

$\Rightarrow Q = \pi R^2 v$

A.N.:  $Q = 2,51 \cdot 10^{-6} \text{ m}^3/\text{s}$

2).  $t = \frac{L}{v} = \frac{12 \text{ cm}}{0,2 \text{ cm/s}} = 60 \text{ s}$ .

3).  $v_A = v$  (incompressible!)  $\Rightarrow v_A = 0,2 \text{ cm/s}$ .

4). Conservation du débit :

$$Q = \pi r^2 v_B \Rightarrow v_B = \frac{Q}{\pi r^2} = \frac{R^2}{r^2} v$$

Or  $\frac{R^2}{r^2} = 16$ , donc  $v_B = 3,2 \text{ cm/s}$

5). Le rayon n'a pas changé, donc le vitene est la même qu'en B :

$$v_C = v_B = 3,2 \text{ cm/s}.$$

6). On utilise le théorème de Bernoulli:

$$\frac{1}{2} \rho v_A^2 + \rho g h_A + p_A = \frac{1}{2} \rho v_B^2 + \rho g h_B + p_B$$

Or  $h_A = h_B$ , donc

$$\begin{aligned} p_A - p_B &= \frac{1}{2} \rho (v_B^2 - v_A^2) \\ &= \frac{1}{2} \rho \left( \frac{R^4}{r^4} - 1 \right) v^2 \end{aligned} \quad \left( \begin{array}{l} v = 0,2 \text{ cm/s} \\ = 0,002 \text{ m/s} \end{array} \right)$$

A.N. :  $p_A - p_B = 0,48 \text{ Pa}$

(Rem :  $p_A - p_B > 0 \Leftrightarrow p_A > p_B$  : ok.)

7). Idem ; entre B et C cette fois !

$$\frac{1}{2} \rho v_B^2 + \rho g h_B + p_B = \frac{1}{2} \rho v_C^2 + \rho g h_C + p_C$$

$$v_B = v_C, \text{ donc } (h_C = H, h_B = h)$$

$$p_B - p_C = \rho g (H - h)$$

A.N. :  $p_B - p_C = 2850 \text{ Pa}$

(Rem:  $p_B > p_C$  : ok.)

8). Loi de Pascal :

$$e g x = p_A - p_{atm} = 1425 \text{ Pa}$$

$$\Rightarrow p_A = p_{atm} + e g x = 102,750 \text{ Pa}$$

(il n'y a pas d'écoulement dans la colonne!).